

Unità, decine, centinaia e migliaia



ATTIVITÀ

1

- Qual è il numero rappresentato nel riquadro sotto?
Osserva i simboli e il loro valore.


Legenda

= 1 migliaio

= 1 decina

= 1 centinaio

= 1 unità

A. ☐ 1218B. ☐ 2435C. ☐ 2345

- Prima di rispondere, segui questi suggerimenti. Completa.

- Come indicato nella legenda, ogni simbolo ha un valore diverso.
- Il simbolo rappresenta 1 migliaio, quindi ogni fulmine vale unità.
I simboli presenti nel riquadro sono 2, rappresentano il valore 1000 che si ripete per 2 volte, cioè \times = **2000**
- Il simbolo rappresenta 1 centinaio, quindi ogni stella vale unità.
I simboli presenti nel riquadro sono 4, rappresentano il valore 100 che si ripete per 4 volte, cioè \times = **400**
- Il simbolo rappresenta 1 decina, quindi ogni fiore vale unità.
I simboli presenti nel riquadro sono 3, rappresentano il valore 10 che si ripete per 3 volte, cioè \times =
- Infine, il simbolo rappresenta 1 unità. Nel riquadro ce ne sono 5, cioè \times =
- Mettendo insieme i valori trovati avremo + + +
- Il numero rappresentato nel riquadro è

- Adesso ritorna alla domanda e metti la **X** sulla risposta corretta.

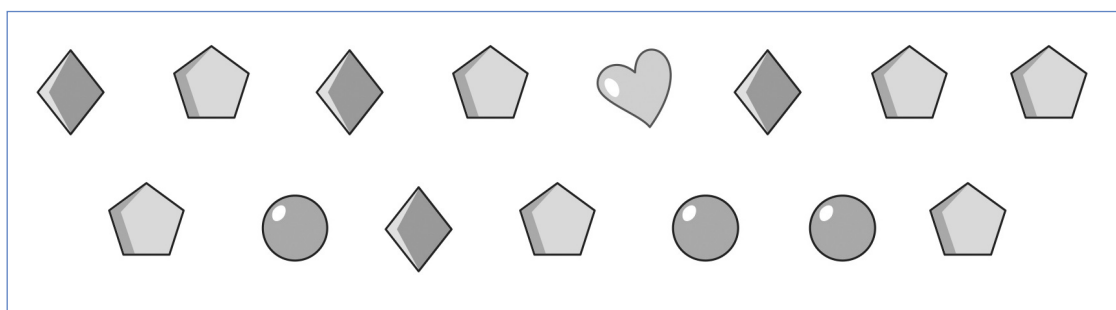
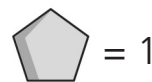
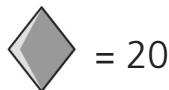
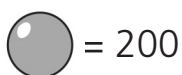
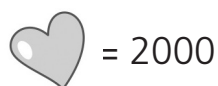


ATTIVITÀ

2

- Francesco e Gabriele stanno giocando a indovinare i numeri scritti con un codice segreto. Francesco ha scritto il numero riportato nel riquadro. Di quale numero si tratta?

Legenda



- A. ☐ 1347
B. ☐ 2221
C. ☐ 2687

Prima di rispondere, segui questi suggerimenti.

- Osserva la legenda e rifletti. Poi completa.

- I simboli della legenda hanno forma e valori diversi da quelli dell'attività 1.

- Il simbolo vale

Ce n'è, quindi il suo valore è 2000.

- Il simbolo vale


Ce ne sono, quindi il valore 200 si ripete volte.

Scrivi l'operazione: \times =

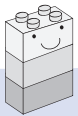
- Il simbolo vale

Ce ne sono, quindi il valore 20 si ripete volte.

Scrivi l'operazione: \times =

- Infine, il simbolo  vale Ce ne sono 7, perciò il loro valore è 7.
- Componi con le cifre il numero rappresentato:
..... + + + =

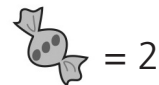

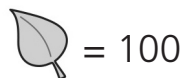
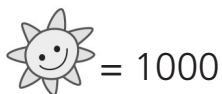
Adesso ritorna alla domanda e metti la **X** sulla risposta corretta.



ATTIVITÀ 3

Qual è il numero rappresentato nel riquadro?

Legenda



A. ☐ 1664

B. ☐ 1758

C. ☐ 1627

VALUTO IL MIO LAVORO

- Le attività di questo percorso ti sono sembrate:
☐ difficili ☐ abbastanza facili ☐ facili
- Se ti sono sembrate difficili, quali difficoltà hai incontrato?
☐ Non ho capito come si usa la legenda.
☐ Non riesco a capire il valore dei simboli.